

1. De Olympische Spelen – Geschiedenis

a. Plaats volgende gebeurtenissen op de tijdlijn.
Schrijf het juiste cijfer in elke cirkel.

1. Tia Hellebaut wint olympisch goud in het hoogspringen

2. de eerste 'moderne' Spelen

4. opdeling in Zomerspelen en Winterspelen

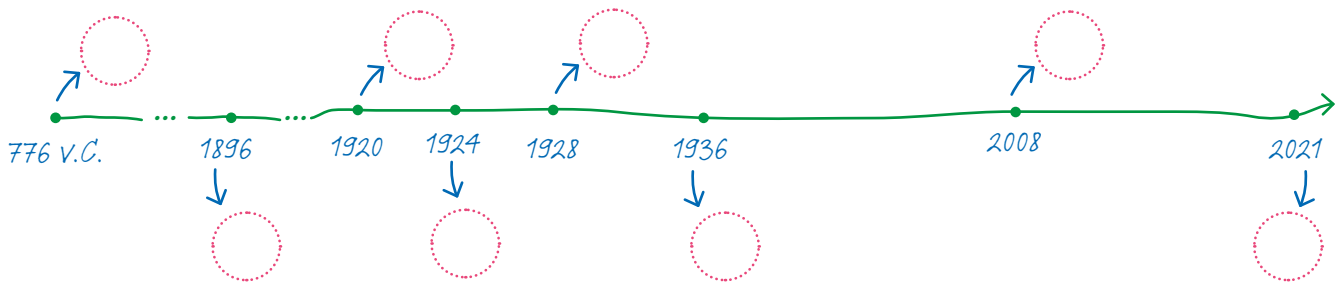
3. 190 meter lopen in Olympia

6. de eerste 'moderne' Spelen met de olympische vlam

5. Olympische Spelen in Tokio

7. de olympische vlag wordt voor het eerst gehesen

8. de eerste estafette met het olympisch vuur



b. Wie zijn deze mensen?
Wat hebben ze verwezenlijkt?



Foto Wikipedia

► Gerardus Theodorus Hubertus van Innis

Naam:

Discipline:

Aantal olympische medailles:



Foto Belga

► Marieke Vervoort

Naam:

Discipline:

Aantal olympische medailles:



Foto Belga

► Tia Hellebaut


Naam:

Discipline:


Aantal olympische medailles:

2. Symbolen en rituelen


a. Het olympisch vuur is een belangrijk symbool. Hierbij horen allerlei rituelen. Teken in drie vakken wat er gebeurt met het vuur.



1. Bij de start in Olympia, Griekenland




2. Onderweg in allerlei landen



3. Bij de aankomst in het olympisch stadion

b. Kleur de olympische vlag. Gebruik de juiste kleuren.



3. Olympisch goud!

Lees het artikel over Tia Hellebaut op pagina 10 van Klap.

a. Geef vijf voorbeelden van zaken waar een hoogspringster op moet letten.

.....

.....

.....

.....

.....

b. De Olympische Spelen in Tokio worden uitgesteld naar 2021. Wie doet hier voordeel mee, wie heeft er nadeel van? Waarom?

Dit is een **voordeel** voor omdat

.....

Dit is een **nadeel** voor omdat

.....